



TÜRKÇE TESTİ

A A A A

3. Aşağıdaki cümlelerin hangisinde yay ayraç içindeki sözcüğün yerine eş anlamlısı getirilemez?

- A) (İhtiyar) adam bizi kapıda karşıladı.
- B) Heceler birleşerek (sözcükleri) oluşturur.
- C) Arkadaşının (kalbini) kırmış, ondan af diliyordu.
- D) Aldığı voleybol topu (beyaz) renkliydi.

Ele alınması gereken iki konu şudur () eğitim () ekonomi ()

6. Bu cümlede () ile belirtilen yerlerden birine aşağıdakilerden hangisi getirilemez?

- A) Üç nokta (...)
- B) Virgül (,)
- C) İki nokta (:)
- D) Nokta (.)

(Afganistan'daki) (deprem) bölgesine (kızılay) (yardım) götürüyor.

7. Bu cümlede yay ayraç içindeki hangi sözcüğün yazımı yanlıştır?

- A) Afganistan'daki
- B) Deprem
- C) Kızılay
- D) Yardım

MATEMATİK TESTİ

:	18	A
A	5	
630		B

1. Yukarıda verilen bölme tablosunda B ile gösterilen sayı aşağıdakilerden hangisidir?

- A) 7
- B) 9
- C) 70
- D) 90

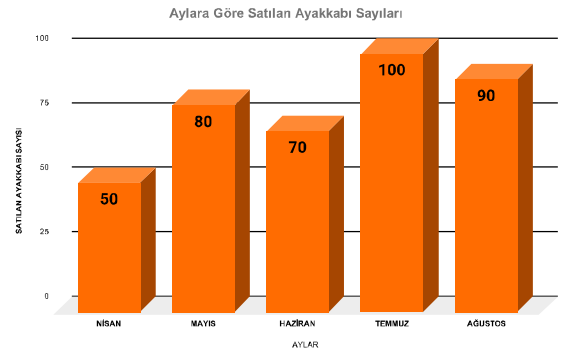
2. Bir otoparkta bulunan araba ve motosikletlerin tekerlek sayıları toplamı 246'dır. Bu otoparkta 28 araba olduğuna göre kaç motosiklet vardır?

- A) 61
- B) 62
- C) 63
- D) 67



Dikkat: 4. ve 5. soruyu aşağıda verilen grafiğe göre cevaplayınız.

Aşağıdaki grafikte bir mağazada aylara göre satılan ayakkabı sayıları gösterilmektedir.

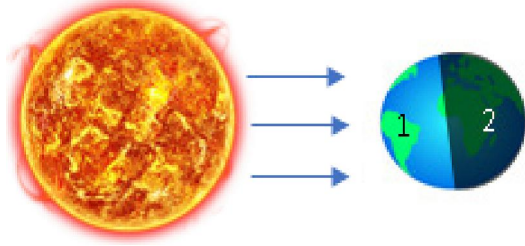


4. Yukarıda verilen grafikteki bilgilere göre hangi aylardaki ayakkabı satış miktarı arasındaki fark diğerlerine göre en fazladır?

- A) Mayıs - Temmuz
- B) Nisan - Temmuz
- C) Nisan- Ağustos
- D) Haziran - Ağustos

FEN BİLİMLERİ TESTİ

SOSYAL BİLGİLER TESTİ



5. Güneş ve Dünya'nın yukarıdaki konumuna göre 1 ve 2 numara ile gösterilen yerlerde hangi durum yaşanmaktadır?

1 2

- | | | |
|-----------|---|--------|
| A) Gündüz | - | Gece |
| B) Gece | - | Gündüz |
| C) Gündüz | - | Gündüz |
| D) Gece | - | Gece |

7. Buharlaştırma ile ilgili verilen bilgilerden hangisi doğrudur?

- A) Bir maddenin dışarıya ısı vermesidir.
 B) Sıvı maddenin ısı vererek katı hale geçmesidir.
 C) Katı maddenin ısı alarak sıvı hale geçmesidir.
 D) Sıvı maddenin ısı alarak gaz hale geçmesidir.

- I. Taş, toprak ve buzullar katı maddelerdir.
 II. Yağmur suyu ve süt sıvı maddelerdendir.
 III. Hava ve su gaz maddelerdendir.

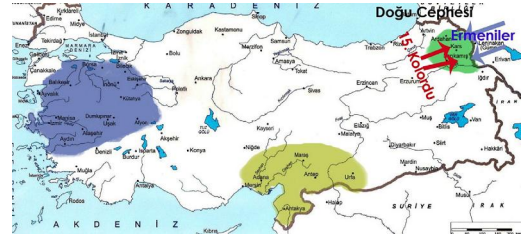
8. Yukarıda verilen bilgilerden hangileri doğrudur?

- | | |
|-------------|----------------|
| A) I ve II | B) II ve III |
| C) I ve III | D) I,II ve III |

Sosyal Bilgiler

8. Atakan'ın Amcasının söylediklerinden aşağıdaki yargılardan hangisine ulaşamayız?

- A) Günümüzdeki insanlar, geçmişteki insanlara göre daha rahat yaşamaktadır
 B) Teknolojik gelişmeler insanlara daha fazla zaman kazandırmıştır
 C) Teknolojik gelişmeler insan hayatını kolaylaştırmıştır.
 D) Teknoloji zamanla insanları tembelliğe alıştırmıştır.



Mondros Ateşkes Antlaşması'nın imzalanmasının hemen ardından yurt işgale uğramış ve yurt genelinde Kuvayı Milliye birlikleri oluşturulmuştur. Doğu Cephesi'nde ise Kâzım Karabekir komutasındaki birliklerle Ermenilere karşı mücadele edilmiştir.

4. Doğu Cephesi'nde Kuvayı Milliye birliklerinin oluşmamasının nedeni aşağıdakilerden hangisidir?

- A) O bölgede Kazım Karabekir komutasında düzenli bir ordunun bulunması
 B) Batı ve Güney'deki işgallerin daha büyük bir tehdit oluşturması
 C) Bölge halkında millî bilincin uyanmamış olması
 D) Doğu Anadolu'da işgal hareketinin olmaması

Yaşadığım yer dik yamaçlarla çevrili, engebeli bir yapıya sahiptir. Çok fazla yağış almaktadır. Toprağımız da killi, kaygan özelliğe sahip olduğu için ağaçlandırılmamış yamaçlardaki toprak, aşağıya doğru kütleler hâlinde kayıyor.



5. Uras'ın yaşadığı yerde aşağıdaki doğal afetlerden hangisi görülür?

- A) Erozyona dayalı toprak kayması
 B) Selle bağlantılı taşkınlar
 C) Heyelanla toprağın eğim doğrultusunda kayması
 D) Depremle beraber binaların yıkılması



Amcam kendi gençliğinde hayatın çok zor olduğunu, her şeyi kendi elleri ile yapmak zorunda olduklarını anlatır hep. Şimdiki gençlerin çok şanslı olduğunu, hayatı yaşamak için daha çok zamanlarının olduğunu söyler.

DİN KÜLTÜRÜ VE AHLAK BİLGİSİ TESTİ

A A A A

3. Aşağıdakilerden hangisi imanın şartlarından değildir?

- A) Allahın varlığına birliğine inanmak
- B) Meleklerle inanmak
- C) Ahrete inanmak
- D) Namaz kılmak

4. Sözlükte birlemek, bir şeyin bir olduğuna karar vermek, tek kılmak anlamlarına gelir. Dinî terim olarak ise Allah'ı (c.c.) zatında, sıfatlarında ve fiillerinde birlemeye; O'nun tek ve eşsiz olduğuna inanmaya, ne denir?

- A) Tevhid
- B) Tekbir
- C) Takdir
- D) Tebrik

8. Kur'an'ın indirilmeye başladığı gece aşağıdakilerden hangisidir?

- A) Mevlid Kandili
- B) Kadir Gecesi
- C) Miraç Kandili
- D) Berat Kandili

İNGİLİZCE TESTİ

- Clean the board.
- Be quiet.
- Come in, please.

1. Which of the following pictures is NOT in the sentences? (Resimlerden hangisi yukarıdaki cümleler içinde yoktur?)


A)



B)



C)



D)



Bon jour, I'm Sophie, I'm 11 years old. I'm from France. I'm French. I love singing and listening to music.

4. According to the text, there is NO information about Sophie's _____ ? (Yukarıdaki metne göre, Sophie'nin _____ hakkında bilgi yoktur?)

- A) country
- B) nationality
- C) family
- D) likes

Sally : Paul, do you like watching TV?

Paul : _____

Sally : Do you like watching TV?

Paul : _____

Sally : What do you like doing?

Paul : _____ What about you?

Sally : Drawing pictures. _____

I. I like drawing pictures.

II. I like reading books.

III. Repeat, please.

IV. No, I don't.

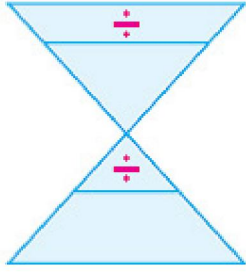
9. According to the dialogue above, which of the following sentences are in correct order? (Yukarıdaki diyaloga göre, aşağıdaki cümlelerin hangisi doğru sırayla dizilmiştir?)

- A) III – IV – II – I
- B) III – II – IV – I

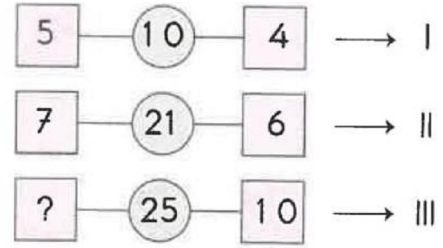
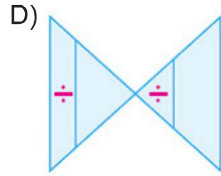
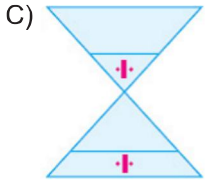
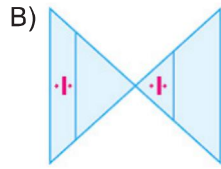
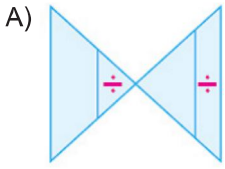
- C) IV – I – II – III
- D) IV – II – I – III

GENEL YETENEK TESTİ

A A A A



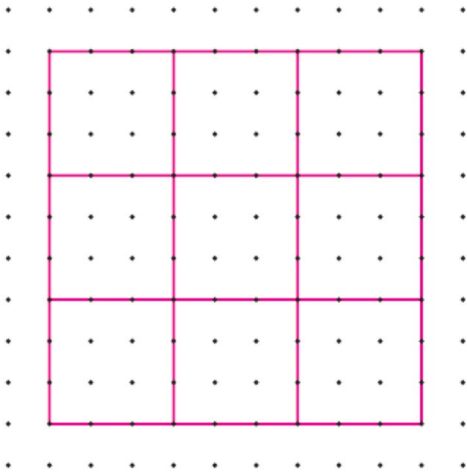
4. Yukarıdaki şekil döndürüldüğünde aşağıdaki şekillerden hangisi elde edilebilir?



I ve II. işlemlerdeki kuralın aynı III. işlemde de uygulanmıştır.

6. Bu kurala göre “?” işareti olan yere hangi seçenekteki sayı yazılmalıdır?

- A) 13 B) 9 C) 5 D) 2



5. Yukarıdaki şekilde kaç tane kare vardır?

- A) 9 B) 11 C) 13 D) 14